

# 2021年度 入学試験問題

## 社 会

( 4 0 分 )

[ 注 意 ]

- 
- ① 問題は①～⑤まであります。
  - ② 解答用紙はこの問題用紙の間にはさんであります。
  - ③ 解答用紙には受験番号、氏名を必ず記入のこと。
  - ④ 各問題とも解答は解答用紙の所定のところへ記入のこと。
- 

西大和学園中学校



問題は次のページから始まります。

1 すみれさんは、夏休みにおばあさんの家に遊びに行きました。何気なく本だなに目をやると、おばあさんが小さいころに使用していた地図帳を見つけました。昔の地図帳を見てみると、今の地図帳にはのっていないさまざまな地形や地名をみることができましたが、特にすみれさんが興味をもったのは、今と昔の日本の湖の統計でした。2冊の地図帳を見比べてすみれさんがまとめた湖に関する資料について、あとの問1～問6に答えなさい。

・昔の地図帳で調べた日本のおもな湖（面積順）

名 称	所在地	面積 (km <sup>2</sup> )
① <small>びわ</small> 琵琶湖	滋賀	674.80
② <small>はちろう</small> 八郎潟	秋田	223.29
<small>かすみ がうら</small> 霞ガ浦	③ <u>茨城</u>	189.17
<small>サロマ</small> 猿澗湖	北海道北見	150.53
<small>いなわしろ</small> 猪苗代湖	④ <u>福島</u>	104.83
<small>なかうみ</small> 中海	⑤ <u>鳥根</u>	101.50

帝国書院『中学校社会科地図』（昭和30年発行）により作成

・今の地図帳で調べた日本のおもな湖（面積順）

名 称	所在地	面積 (km <sup>2</sup> )
琵琶湖	滋賀	669
霞ヶ浦	茨城	168
サロマ湖	⑥ <u>北海道</u>	152
猪苗代湖	福島	103
中海	鳥根・鳥取	86
<small>くっしゃろ</small> 屈斜路湖	北海道	80

帝国書院『新詳高等地図』（平成31年発行）により作成

問1 下線部①について、この湖の成り立ちと産業を説明した文章として適当なものを、次のア～エから1つ選び、記号で答えなさい。

ア この湖は、海流が運んだ砂によって海とへだてられたことで形成された。湖内では、ホタテやカキ、ノリなどの養殖ようしよくが行われている。

イ この湖は、海流が運んだ砂によって海とへだてられたことで形成された。湖内はワカサギやエビなどの水産資源にめぐまれ、古くから多種多様な漁業がさかんに行われている。

ウ この湖は、地殻変動ちかくにともなう地形変化の一つとして形成された。湖岸には温泉が多くみられ、最も寒さが厳しい時期には全面氷結することがあり、スケート客でにぎわいをみせる。

エ この湖は、地殻変動にともなう地形変化の一つとして形成された。陸上交通が発達するまでは、この湖の水運を利用して、日本海で陸あげされた物資が内陸の都市に運ばれていた。

問2 下線部②について、あとの(1)・(2)の問いに答えなさい。

(1) この湖のほぼ中央で交わる緯線いと経線の組み合わせとして正しいものを、次のア～エから1つ選び、記号で答えなさい。

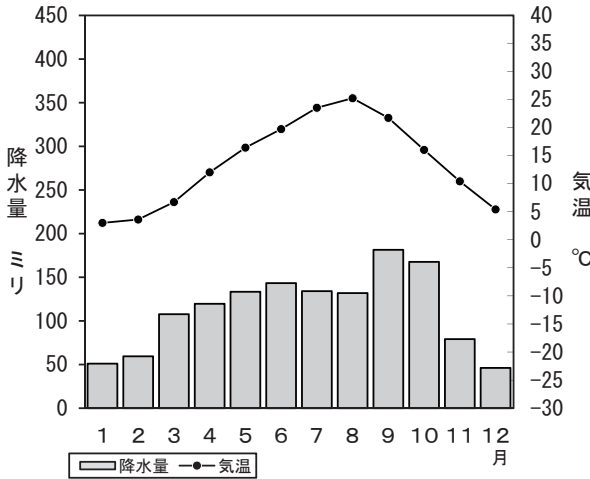
ア 北緯30度 東経130度      イ 北緯35度 東経135度

ウ 北緯40度 東経140度      エ 北緯45度 東経145度

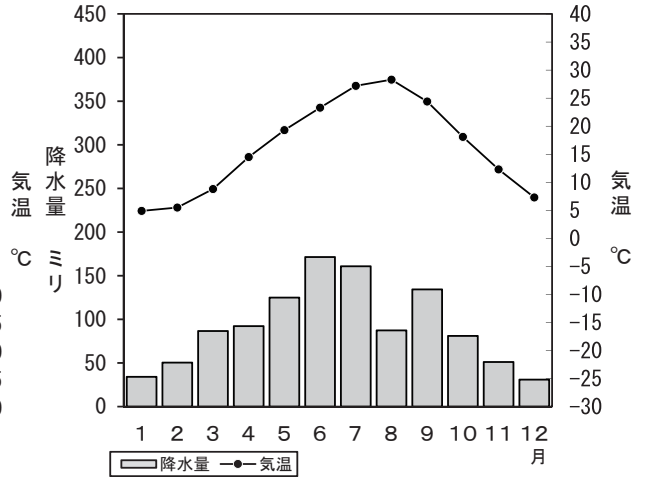
(2) この湖は、「今の地図帳で調べた日本のおもな湖（面積順）」には表記されていませんが、それは、この湖の面積が大幅に縮小されたことが原因です。その背景を、「不足」と「農地」という語句を必ず使用して、50字以内で説明しなさい。

問3 下線部③について、次のA～Cの雨温図は、水戸市（茨城県）・金沢市（石川県）・岡山市（岡山県）のいずれかの気温と降水量をあらわしています。A～Cの雨温図とそれぞれの都市の組み合わせとして正しいものを、次ページのア～カから1つ選び、記号で答えなさい。

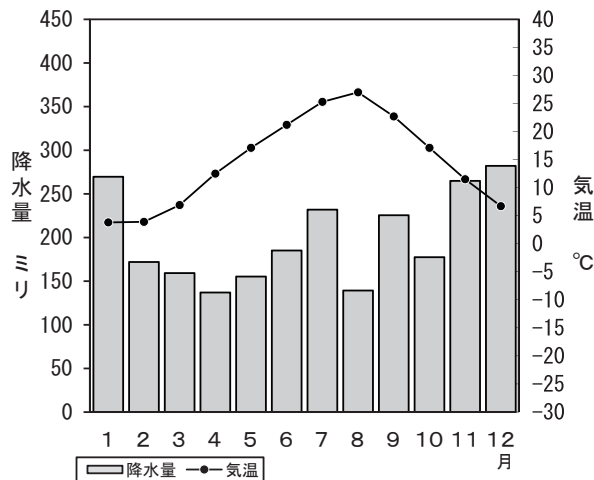
A



B



C



統計年次は1981～2010年の平均値  
 気象庁「過去の気象データ」により作成

	A	B	C
ア	水戸市	金沢市	岡山市
イ	水戸市	岡山市	金沢市
ウ	金沢市	水戸市	岡山市
エ	金沢市	岡山市	水戸市
オ	岡山市	水戸市	金沢市
カ	岡山市	金沢市	水戸市

問4 下線部④について、福島県は、さまざまな果実の生産をしています。あとの(1)・(2)の問いに答えなさい。

(1) 次の表1は、2018年度における日本なし・もも・りんごの主産地を都道府県別に並べ、上位5都道府県を表したものです。D～Fと果実の組み合わせとして正しいものを、あとのア～カから1つ選び、記号で答えなさい。

表1 果実の主産地

(単位はトン)

D		E		F	
都道府県	生産量	都道府県	生産量	都道府県	生産量
山 梨	39,400	千 葉	30,400	青 森	445,500
福 島	24,200	茨 城	23,800	長 野	142,200
長 野	13,200	栃 木	20,400	岩 手	47,300
山 形	8,070	福 島	17,100	山 形	41,300
和歌山	7,420	鳥 取	15,900	福 島	25,700
全 国	113,200	全 国	231,800	全 国	756,100

統計年次は2018年

『データでみる県勢2020』により作成

	D	E	F
ア	日本なし	もも	りんご
イ	日本なし	りんご	もも
ウ	もも	日本なし	りんご
エ	もも	りんご	日本なし
オ	りんご	日本なし	もも
カ	りんご	もも	日本なし



(2) 果実の 2017年度の自給率は 39%で、1980年度の81%と比べて半分以下になっています。次の文章は、その要因について説明したものです。文章中の空らん  ・  にあてはまる言葉を、それぞれ漢字 2 字で、考えて答えなさい。

果実の自給率が減少した代表的な要因は、輸入の  化によりオレンジなどのかんきつ類と、食の  化によりバナナなどの熱帯果実の輸入が増加し、国産果実の需要が後退したことによると考えられます。輸入量は1980年度の154万トンから 2017年度は434万トンに増加し、なかでもバナナは輸入生鮮用果実のうち約5割をしめています。

問5 下線部⑤について、島根県には、2007年に世界文化遺産に登録された、「石見銀山遺跡とその文化的景観」があります。この文化遺産よりあとに世界文化遺産に登録されたものとして適当でないものを、次のア～オから2つ選び、記号で答えなさい。

- ア 琉球王国のグスク及び関連遺産群
- イ 富士山－信仰の対象と芸術の源泉
- ウ 紀伊山地の霊場と参詣道
- エ 長崎と天草地方の潜伏キリシタン関連遺産
- オ 富岡製糸場と絹産業遺産群

問6 下線部⑥について、北海道では、広い土地を生かして林業がさかんに行われています。  
あとの(1)・(2)の問いに答えなさい。

(1) 次の表2は、都道府県別の林業産出額上位4都道府県を表していて、ア～エは、北海道・新潟県・長野県・宮崎県のいずれかです。北海道を表しているものを、表中のア～エから1つ選び、記号で答えなさい。

表2 林業産出額

(単位は千万円)

	林業産出額	木材生産		しんたん 薪炭*生産	さいばい 栽培きのこ 類生産
		針葉樹	広葉樹		
ア	2,824	2,226	40	20	530
イ	4,143	105	6	1	4,018
ウ	5,904	452	15	5	5,385
エ	4,765	2,985	555	22	1,122

\*薪炭とは、「たきぎ」と「すみ」のことである。

統計年次は2017年

『データでみる県勢2020』により作成

(2) 次の表3は、日本の木材の供給量と自給率を表したものです。表3によると、1980年から2000年にかけて木材自給率は減少していますが、その後、2018年にかけては増加しています。木材自給率がこのように変化している理由を、あとの文章の空らん  ・  にあてはまるように、それぞれ20字以内で、考えて答えなさい。

表3

(単位は万m<sup>3</sup>、丸太換算材積<sup>かんざん</sup>)

	1980	1990	2000	2010	2018
国産材	3,696	3,130	1,906	1,892	3,020
外材	7,525	8,195	8,195	5,296	5,228
総供給量	11,221	11,324	10,101	7,188	8,248
木材自給率(%)	32.9	27.6	18.9	26.3	36.6

『日本のすがた2020』により作成

ことから輸入木材の利用が進んだが、 ため国産材の価格が下がり、利用量が少しずつ増加してきている。

2 右ページの地形図は、2万5千分の1地形図「取手」(平成29年作成)の一部です。この地形図をみて、あとの問1～問3に答えなさい。

問1 地形図中の北部に位置する「キリンビール工場」は、3 cm×1 cmで表されています。実際の面積は何 ha になるか、計算しなさい。

問2 地形図から読み取ることができることとして適当でないものを、次のア～エから1つ選び、記号で答えなさい。

ア 「利根川」の河川敷しきには、兩岸に遊歩道が整備されている。

イ 「長兵衛新田」は、「光風台」こうふうだいより早い時期に形成された集落であると考えられる。

ウ 南西－北東方向に走る「JR 常磐線」じょうばんは、すべての道路と平面で交差している。

エ 「取手駅」周辺には、官公署や裁判所が立地している。

問3 地形図中の南部にある○で囲った地域について、あとの(1)・(2)の問いに答えなさい。

(1) この区域内にある水域のように、かつての流路が切りはなされて形成された、現在の河道に沿ってみられる湖沼こしやうを何というか、漢字で答えなさい。

(2) 一般的に河川のすぐそばは、降雨時にこう水の危険性があるため、集落は形成されにくいとされています。一方で、「小堀」や「西野」のように、河川のすぐそばであっても、周囲に比べて標高が高くなっている土地では、集落が形成されることがあります。これらの集落のように、河川のすぐそばで標高が高くなっている土地が形成される理由を、「こう水」と「たい積」という語句を必ず使用して、40字以内で説明しなさい。



3 地理学は、空間の科学です。「場所」や「地域」をキーワードに、世界のあらゆることを分析します。次の文章は、地理学の中からみそ汁をどのように理解できるかについて書かれたものです。これを読んで、あとの問1～問6に答えなさい。

①貿易の進展は、経済発展を進め生活を豊かにした一方で、②国内産業の保護と国際協調のせめぎあいという課題をもたらします。また、貿易は、経済とは異なる部分、具体的には環境や人権にかかわる課題もかかえています。

貿易とは、国境をこえて物を移送することですから、輸出入に用いられる自動車・③船舶・鉄道・飛行機といった便利な輸送手段は、一方で、大気汚染や地球温暖化、その他自然環境の破壊の元きょうとなっているということです。

ある食材について、運ばれた「距離」と「重さ」をかけ合わせた指標のことを、④といえます。運ばれた距離やその重量が大きいほど、その数字は大きくなりますが、その分、環境に負荷をかけているとみなせます。同じ食材を使うにしても、なるべく近い国の、できれば国内産のものを使用すれば、④は小さくなり、環境への負荷は小さくなります。

日本人のソウルフードともいえるみそ汁は、トータルでみると、非常に大きな④をもっています。日本における大豆の⑤自給率は、2018年度現在10%未満であり、大部分がアメリカ・カナダ・ブラジルといった遠方の国から輸入したものです。みそ汁に欠かせないみそは大豆がなくては造れませんし、とうふはまさに大豆のエキスから作ります。日本人がみそ汁を飲んで、「ああ、まさに⑥日本的な食事をしている」と感じるたびに、海外産の大豆が次々と運ばれ、その過程で環境に負荷がかかっているのは皮肉なものです。たまには、少し高いのをがまんして、国内産の大豆を使ったみそやとうふを食べてみるのはいかがでしょうか。

(富田啓介『あれもこれも地理学』により作成)

問1 下線部①について、次の表1は、2019年におけるアメリカ合衆国・中国・ブラジルと日本とのそれぞれの、おもな貿易品目と貿易額の割合を表したものです。A～Cとそれぞれの国の組み合わせとして正しいものを、あとのア～カから1つ選び、記号で答えなさい。

表1 アメリカ合衆国・中国・ブラジルと日本との貿易  
(単位は十億円)

Aへの輸出			Aからの輸入		
品目	貿易額	%	品目	貿易額	%
機械類	6,436	43.8	機械類	8,680	47.0
プラスチック	816	5.6	衣類	1,791	9.7
自動車	787	5.4	金属製品	676	3.7
科学光学機器*	750	5.1	家具	464	2.5
自動車部品	685	4.7	がん具	380	2.1
計	14,680	100.0	計	18,454	100.0

\*一般に光学用の機器のこと。具体的には、メガネ、レンズ、カメラやそう眼鏡などがふくまれる。

Bへの輸出			Bからの輸入		
品目	貿易額	%	品目	貿易額	%
機械類	5,609	36.8	機械類	2,275	26.3
自動車	4,229	28.1	航空機類	499	5.8
自動車部品	835	5.5	医薬品	485	5.6
航空機部品	431	2.8	科学光学機器	460	5.3
科学光学機器	336	2.2	肉類	398	4.6
計	15,255	100.0	計	8,640	100.0

C への輸出			C からの輸入		
品 目	貿易額	%	品 目	貿易額	%
機械類	153	37.3	鉄鉱石	334	38.4
自動車部品	81	19.9	とうもろこし	108	12.4
有機化合物	30	7.3	肉類	100	11.4
自動車	29	7.0	コーヒー	50	5.7
鉄鋼	17	4.1	有機化合物	41	4.7
計	410	100.0	計	872	100.0

統計年次は2019年

『日本国勢図会2020 / 21』により作成

	A	B	C
ア	アメリカ合衆国	中国	ブラジル
イ	アメリカ合衆国	ブラジル	中国
ウ	中国	アメリカ合衆国	ブラジル
エ	中国	ブラジル	アメリカ合衆国
オ	ブラジル	アメリカ合衆国	中国
カ	ブラジル	中国	アメリカ合衆国



問2 下線部②について、あとの(1)・(2)の問いに答えなさい。

- (1) 貿易を行いながら国内の産業を保護するために、それぞれの国が設定している税金を何というか、漢字2字で答えなさい。
- (2) 貿易が活発に行われるようになると、国内の企業きぎょうの中には、生き残りをかけて海外に工場を建設し、そこで安く生産したものを自国内に運んで売る、逆輸入という手段に出るところも増えてきます。こうして国内の産業が外に出ていく現象を「産業の空どう化」といいますが、この現象が起こることによって、国内ではどのような問題が生まれるか、簡単に説明しなさい。

問3 下線部③について、次の表2は、2017年における海上輸送・航空輸送・鉄道輸送の利用者数を都道府県別に並べ、上位5都道府県を表したものです。D～Fと輸送手段の組み合わせとして正しいものを、あとのア～カから1つ選び、記号で答えなさい。

表2 旅客輸送

(単位は鉄道は百万人、海上と航空は千人)

D		E		F	
都道府県	人数	都道府県	人数	都道府県	人数
東京	10,329	東京	30,721	広島	9,551
大阪	3,000	北海道	11,879	鹿児島	6,543
神奈川	2,916	大阪	10,598	長崎	5,222
千葉	1,382	沖縄	10,464	沖縄	4,885
埼玉	1,295	福岡	8,896	香川	3,615
全国	24,798	全国	102,119	全国	54,040

航空は国内定期輸送

統計年次は2017年

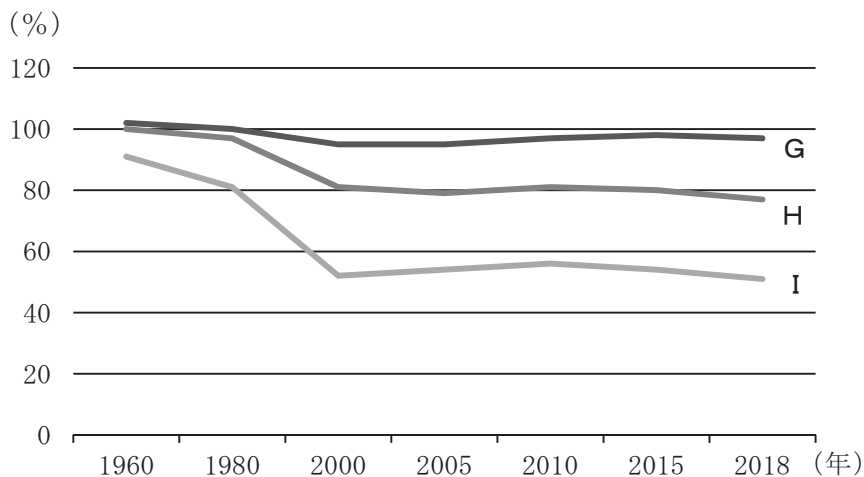
『データでみる県勢 2020』により作成

	D	E	F
ア	海上	航空	鉄道
イ	海上	鉄道	航空
ウ	航空	海上	鉄道
エ	航空	鉄道	海上
オ	鉄道	海上	航空
カ	鉄道	航空	海上

問4 文章中の空らん④にあてはまる適切な語句を、カタカナ8字で答えなさい。

問5 下線部⑤について、あとの(1)・(2)の問いに答えなさい。

(1) 次の図1は、1960年から2018年にかけての米・肉類（くじら肉を除く）・野菜の自給率の推移を表したものです。図中のG～Iとそれぞれの項目の組み合わせとして正しいものを、あとのア～カから1つ選び、記号で答えなさい。



国内総供給量に対する国産供給量の割合  
『日本国勢図会 2020 / 21』により作成

図1 食糧自給率の推移

	G	H	I
ア	米	肉類	野菜
イ	米	野菜	肉類
ウ	肉類	米	野菜
エ	肉類	野菜	米
オ	野菜	米	肉類
カ	野菜	肉類	米

(2) 農産物を輸入することは、あたかも水を輸入するのと同じであるという意味で、農畜<sup>ちく</sup>産物の生産に要した水を、バーチャルウォーターとよびます。この考え方に照らすと、日本は多くの農畜産物を輸入に依存しているので、世界でも大変な水消費国であるといえます。次のア～エの農産物のなかで、1 kgあたりのバーチャルウォーター量が最も多くなるものを1つ選び、記号で答えなさい。

ア 牛肉      イ 鶏卵<sup>けいらん</sup>      ウ 小麦粉      エ ジャガイモ

**問6** 下線部⑥について、平成25年、「和食；日本人の伝統的な食文化－正月を例として－」は、ユネスコの人類の無形文化遺産の代表的な一覧表に登録されました。一覧表では、「和食」を料理そのものではなく、「自然を尊ぶ」という日本人の気質に基づいた「食」に関する「習わし」と位置付けています。次のア～エのうち、「伝統的な日本人の食文化」の説明として適当でないものを1つ選び、記号で答えなさい。

ア 豊かな自然でとれる多様で新鮮な食材と、素材の味わいを活かす調理技術や調理道具が発達している。

イ 一汁<sup>いちじゅう</sup>三菜を基本スタイルとし、素材の「うま味」を上手に使うことによって動物性<sup>ゆうし</sup>油脂の少ない食生活を実現している。

ウ 料理や飲料だけでなく、料理の出される順番やテーブルアートといった、洗練された食事作法や会話を楽しむことも重視されている。

エ 季節の花や葉などで料理をかざり付けたり、季節に合った調度品や器を使用したりして、季節感を楽しむ工夫をしている。

問題は次のページに続きます。

4 日本の衣服の歴史に関する次の【I】～【IV】の文章を読み、あとの問1～問20に答えなさい。

【I】

縄文人が着ていた衣服は、まだわからないことがあります。各地の①縄文遺跡から出土した「あ」の形や、刻まれた模様から推測できます。これらに刻まれたうずまきや水の流れるような曲線は、当時の衣服の模様と見られています。

いっぽう、②弥生時代の代表的な衣服は、頭からかぶって着る貫頭衣です。これは、男性も女性も子どもも着ていました。このほかに、現代の寺の僧侶の法衣やインドのサリーに似た着方で2枚の布を使った袈裟衣がありました。これらの材料のほとんどは、「い」からつくられました。

問1 文章中の「あ」・「い」にあてはまる語句の組み合わせとして正しいものを、あとのア～エから1つ選び、記号で答えなさい。

- ア あ－はにわ い－絹 イ あ－はにわ い－麻  
ウ あ－土ぐう い－絹 エ あ－土ぐう い－麻

問2 下線部①について、この時代の代表的な遺跡である青森県の三内丸山遺跡の説明をした次のA～Cの文が正しいか、あやまっているかを判断し、その正誤の組み合わせとして正しいものを、あとのア～カから1つ選び、記号で答えなさい。

- A 今から約1万2000年前の人々が暮らしていたあとが見つかっている。  
B 集落を守るために、まわりが大きな二重の堀や木のさくで囲まれていた。  
C 狩りや漁・採集だけでなく、くりやくるみなどの栽培がおこなわれていた。

	A	B	C
ア	正	正	誤
イ	正	誤	正
ウ	正	誤	誤
エ	誤	正	正
オ	誤	正	誤
カ	誤	誤	正

問3 下線部②について、中国の歴史書『魏志』の倭人伝に記されている倭の王卑弥呼の説明としてあやまっているものを、次のア～エから1つ選び、記号で答えなさい。

ア 卑弥呼が女王として倭を治めていたのは1世紀ごろのことである。

イ 倭では争いが続いたため、くにぐにが相談して卑弥呼を王に立てた。

ウ 卑弥呼はまじないをする力があり、神のおつげを伝えて人々の心をとらえた。

エ 卑弥呼のいた邪馬台国があった場所については、九州説と近畿説に分かれている。

【Ⅱ】

飛鳥・奈良時代には、中国や朝鮮の服制を参考にして、朝廷の役人が儀式や行事で着る衣服が定められました。平安時代に③遣唐使の派遣がなくなると、大陸の影響を受けつつ、日本の風土や生活に合ったう文化がさかえました。都の④貴族の服装は、はなやかにりましたが、非活動的な服装になりました。

問4 下線部③に関連して、奈良時代に留学生として唐にわたった阿倍仲麻呂について述べた次の文中の【 A 】・【 B 】にあてはまる語句の組み合わせとして正しいものを、あとのア～エから1つ選び、記号で答えなさい。

阿倍仲麻呂は、16才のときに留学生として唐にわたり、秀才のほまれ高く、玄宗皇帝に仕えて重く用いられました。753年、唐の僧【 A 】をともなって帰国の途についたものの、乗った船があらしにあり、今のベトナムまで流されてしまいました。仲麻呂は都の長安にもどって再び唐に仕えて一生を終えました。日本への望郷のおもいをうたった【 B 】の歌は有名です。

	A	B
ア	鑑真	この世をば わが世とぞ思う 望月の 欠けたることも なしと思えば
イ	鑑真	天の原 ふりさけみれば 春日なる 三笠の山に 出でし月かも
ウ	行基	この世をば わが世とぞ思う 望月の 欠けたることも なしと思えば
エ	行基	天の原 ふりさけみれば 春日なる 三笠の山に 出でし月かも

問5 文章中のうにあてはまる語句を漢字で答えなさい。



問6 下線部④に関連して、このころの貴族について述べた次の i・ii の文が正しいかあやまっているかを判断し、i・ii の両方が正しいければア、i が正しく ii があやまっていればイ、i があやまりで ii が正しいければウ、i・ii の両方があやまっていればエと答えなさい。

- i 貴族の屋敷の中は、大陸の雄大な風景などをえがいた水墨画<sup>すいぼくが</sup>でかざられた。
- ii 豊かな教養や文才をもつ女性によって、漢字で書かれた文学作品が生まれた。

【Ⅲ】

鎌倉・室町時代は、⑤武士が政治を支配した武家社会です。武士は、儀式や行事などのときは、平安時代にできた束帯そくたいや狩衣かりぎぬなどを身につけましたが、ふだんは質素で活動的な衣服を着ていました。⑥農民や職人なども、仕事がいやするように、肩衣かたぎぬや小袖こそでにくくりばまかを着たり、女性は、小袖に短い腰布こしぬのを着たりしていました。⑦室町時代には朝鮮や中国との貿易がはじまり、豪華な織物が輸入されました。⑧応仁の乱以降は、⑨武士や公家の間でも小袖が着られるようになりました。

問7 下線部⑤に関連して、源頼朝みなもとのよりともが開いた鎌倉幕府の説明をした次のA～Cの文が正しいか、あやまっているかを判断し、その正誤の組み合わせとして正しいものを、あとのA～カから1つ選び、記号で答えなさい。

- A 源頼朝は、有力な御家人を守護や地頭につけ、地方にも力がおよぶようにした。
- B 源頼朝は、御家人に奉公として、先祖からの領地の所有を認めた。
- C 源氏の将軍は3代でとだえ、北条氏が代わって将軍の職について政治を進めた。

	A	B	C
ア	正	正	誤
イ	正	誤	正
ウ	正	誤	誤
エ	誤	正	正
オ	誤	正	誤
カ	誤	誤	正

問8 下線部⑥について、次の図は、村をあげておこなわれた室町時代の田植えの様子です。田植えをしているそばで豊作をいのっておどる人の姿がえがかれていますが、このおどり（舞い）を何というか、漢字で答えなさい。



問9 下線部⑦に関連して、日本との正式な国交が開かれ、貿易船の派遣がさかんにおこなわれたときの中国の国名（王朝名）を漢字1字で答えなさい。

問10 下線部⑧について、この乱の説明としてあやまっているものを、次のア～エから1つ選び、記号で答えなさい。

ア この戦乱は全国の大名をまきこんで10年余りも続いた。

イ この戦乱で京都のまちは焼け野原となり、それまで続いていた祇園祭ぎおんがとだえた。

ウ この戦乱が終わると、幕府の8代将軍に足利義政が就任した。

エ この戦乱で幕府の権力はおとろえ、有力な大名は幕府の命令をきかなくなった。

問11 下線部⑨に関連して、次の図は、ある戦国大名の妹お市の方の肖像画で、小袖の上半身をぬぎ、腰に巻きつけた姿でえがかれています。お市の方の兄にあたる人物に関する次の年表中の【 A 】・【 B 】にあてはまる語句の組み合わせとして正しいものを、あとのア～エから1つ選び、記号で答えなさい。



年	おもなできごと
1534	<small>おわり</small> 尾張で生まれる。
1560	【 A 】氏を破る。
1562	<small>まつだいらもとやす</small> 松平元康（のちの <small>とくがわいえやす</small> 徳川家康）と連合する。
1569	キリスト教を許可する。
〃	【 B 】を支配する。
1571	<small>ひえい えんりやく</small> 比叡山延暦寺を焼き打ちにする。
1573	室町幕府をほろぼす。

- ア 【 A 】 — 武田 【 B 】 — 堺  
 イ 【 A 】 — 武田 【 B 】 — 長崎  
 ウ 【 A 】 — 今川 【 B 】 — 堺  
 エ 【 A 】 — 今川 【 B 】 — 長崎

【Ⅳ】

呉服店は、室町時代からありましたが、品物を大きな布に包み、得意先にかついで持っていきました。現在の訪問販売の方法です。呉服を店先に並べ、客の注文に応じて販売する呉服店は⑩江戸時代にあらわれました。この店頭販売によって、客は武士だけではなく、⑪町人にも広がり、繁盛しました。しかし、はなやかな呉服を着用できたのは、裕福な人々に限られました。⑫江戸幕府は、17世紀の前半から、⑬農民（百姓）にはぜいたくな衣服の着用を禁止しました。

問12 下線部⑩について、この時代に行われていた教育について述べた次の文章中の【 】にあてはまる語句を、漢字で答えなさい。

江戸時代には、教育への関心も高まり、【 】が各地につくられました。町人や百姓の子どもは7～8才のころから数年間【 】に通い、読み書きやそろばんなど生活に必要な知識を身につけました。

問13 下線部⑪について、江戸時代の町人について説明したあとのA～Cの文が正しいか、あやまっているかを判断し、その正誤の組み合わせとして正しいものを、あとのア～カから1つ選び、記号で答えなさい。

- A 江戸時代の人口の30%近くは町人でしめられ、百姓に次ぐ多さであった。
- B 町人にかかる税は百姓に比べて軽く、経済力では大名をしのご大商人もいた。
- C 城下町では、身分によって住む場所が決められ、町人は町人地に集まっていた。

	A	B	C
ア	正	正	誤
イ	正	誤	正
ウ	正	誤	誤
エ	誤	正	正
オ	誤	正	誤
カ	誤	誤	正

問14 下線部⑫に関連して、江戸幕府の3代将軍徳川家光とくがわいえみつは、武家諸法度を改めました。このときに新たに加えられた内容を示す、次の文章中の  ・  にあてはまる説明をそれぞれ20字以内で答えなさい。

徳川家光は、大名に1年おきに  させる参勤交代の制度を整えました。また、大名の  ことを義務づけました。

問15 下線部⑬に関連して、江戸時代の百姓は、きびしいきまりのなか、農具を改良したり、肥料をくふうしたりして、農業技術を進歩させました。進んだ農具を利用している百姓をえがいた次の図を説明したA～Cの文が正しいか、あやまっているかを判断し、その正誤の組み合わせとして正しいものを、あとのア～カから1つ選び、記号で答えなさい。



- A 「備中ぐわ」を使って土を深く耕している。
- B 「千歯こき」を使っていねを脱穀している。
- C 米などのもみがらやごみを取り除く「とうみ」がある。

	A	B	C
ア	正	正	誤
イ	正	誤	正
ウ	正	誤	誤
エ	誤	正	正
オ	誤	正	誤
カ	誤	誤	正

【Ⅳ】

明治維新後の⑭文明開化とともに、それまでの和服や羽織、はかまを脱いで、洋服を着始める人が増えました。まず、男性が軍服や背広せびろなどとして取り入れました。⑮関東大震災のころには女性が仕事着や外出着として着るようになりました。

⑯太平洋戦争中に、政府は国民の服装を定めました。男性は軍服を改良した国民服を、女性や子どもには、⑰和服ともんぺを組み合わせた服などを着るようにはたらきかけました。

戦後の経済復興が進み、⑱1960年代になると国民生活もしだいに回復し、再び衣服に関心をもたれるようになりました。

問16 下線部⑭に関連して、次のことばは、この風潮に大きな影響をあたえたといわれる有名な日本の思想家の著書の冒頭ぼうとうの一文です。この人物の名前を漢字で答えなさい。

天は人の上に人を造らず、人の下に人を造らずといえり。

問17 下線部⑮について、この震災がおこった時期として正しいものを、次の年表中のア～エから1つ選び、記号で答えなさい。

イギリス船ノルマントン号が紀伊半島沖ちんぼつで沈没した。

【ア】

ロシアなどがリャオトン半島を清に返すように日本に要求した。

【イ】

日本が朝鮮へいごうを併合し、植民地にした。

【ウ】

米の安売りを求める民衆の運動が起こり、全国に広がった。

【エ】

政府が思想まできびしく取りしめる治安維持法をつくった。



問18 下線部⑯について、この戦争でおこったできごとを述べた次の文Ⅰ～Ⅲを年代の古い順に正しくならべかえたものを、あとのア～カから1つ選び、記号で答えなさい。

- Ⅰ アメリカ軍が沖縄への上陸を開始し、激しい地上戦がおこなわれた。
- Ⅱ ソ連が日本に宣戦し、満州や樺太南部、千島列島に侵攻を開始した。
- Ⅲ アメリカ軍の空襲をさけるため、都市部の学童の集団疎開が始められた。

- ア Ⅰ－Ⅱ－Ⅲ      イ Ⅰ－Ⅲ－Ⅱ      ウ Ⅱ－Ⅰ－Ⅲ  
エ Ⅱ－Ⅲ－Ⅰ      オ Ⅲ－Ⅰ－Ⅱ      カ Ⅲ－Ⅱ－Ⅰ

問19 下線部⑰に関連して、次の写真は、敗戦後初めて投票する女性の姿をあらわしています。このときの選挙について述べたあとの i・ii の文が正しいかあやまっているかを判断し、i・ii の両方が正しければア、i が正しく ii があやまっていればイ、i があやまりで ii が正しければウ、i・ii の両方があやまっていればエと答えなさい。



- i アメリカなどの連合軍の指導により、日本政府は満20歳以上の男女に平等に選挙権を保障した。
- ii 女性に選挙権が保障された初めての選挙は、日本国憲法が施行された直後におこなわれた。

問20 下線部⑱について、この時期におこったできごとを説明した次のA～Cの文が正しいかあやまっているかを判断し、その正誤の組み合わせとして正しいものを、あとのア～カから1つ選び、記号で答えなさい。

- A 「三種の神器」に加えて、カー、クーラー、カラーテレビの「3C」が多くの人びとのあこがれとなった。
- B 東京オリンピックが開かれるのに間に合うように、東京と博多<sup>はかた</sup>の間を東海道新幹線が開通した。
- C 政府が貿易の拡大、輸出の増加に力を入れ、日本の国民総生産額はアメリカに次いで世界第2位になった。

	A	B	C
ア	正	正	誤
イ	正	誤	正
ウ	正	誤	誤
エ	誤	正	正
オ	誤	正	誤
カ	誤	誤	正

問題は次のページに続きます。

- 5 7年8か月におよんだ安倍晋三内閣のおもなできごとをまとめた次の年表を読み、あとの問1～問4に答えなさい。

時 期	おもなできごと
2012年12月	第2次安倍内閣が発足する。
2013年 9月	①2020年の東京オリンピック・パラリンピック開催が決定する。
2014年 4月	消費税の税率を <input type="text" value="A"/> %に引き上げる。
2014年 7月	集団的自衛権の限定的行使を認めることを②閣議決定する。
2014年12月	第3次安倍内閣が発足する。
2015年 9月	安全保障関連法が成立する。
2017年11月	第4次安倍内閣が発足する。
2019年 5月	天皇が即位し、令和に改元となる。
2019年10月	消費税の税率を <input type="text" value="B"/> %に引き上げ、軽減税率を導入する。
2020年 3月	東京オリンピック・パラリンピックの延期が決定する。
2020年 4月	③新型コロナウイルス感染拡大で緊急事態宣言を発する。
2020年 8月	第2次安倍内閣発足以降の連続在職日数が歴代最長になる。

- 問1 下線部①について述べた次の文章中の【       】にあてはまる語句を、カタカナで答えなさい。

今回の東京での開催に向けて、大会を支える【       】が募集されました。内わけは、空港や主要な駅、観光地などで観光・交通案内をする「シティキャスト」が3万人、競技が行われる会場や選手村、そのほか大会に関連する施設で、観客サービスや競技運営のサポートなど、大会運営に直接たずさわる「フィールドキャスト」が5万人と、8万人もの大募集でしたが、役に立ちたいと参加を希望する【       】が20万人以上も集まりました。

- 問2 年表中の  ・  にあてはまる算用数字をそれぞれ答えなさい。

問3 下線部②について、次の写真は、閣議の様子です。閣議について述べたあとの i・ii の文が正しいかあやまっているかを判断し、i・ii の両方が正しければア、i が正しく ii があやまっていればイ、i があやまりで ii が正しければウ、i・ii の両方があやまっていればエと答えなさい。



- i 閣議は、内閣総理大臣と各国务大臣が出席し、政治の進め方などが決められる。
- ii 閣議の決定は、全会一致を原則としている。

問4 下線部③に関連して述べた次の文章中の【 】にあてはまる語句を漢字3字で答えなさい。

【 】は、地域住民の健康や衛生を支える公的機関の1つで、都道府県や政令指定都市などの特定の市が設置します。【 】のおもな仕事は、結核や寄生虫などの予防、乳幼児の予防注射や検診の実施、水・食品などの検査、旅館・公衆浴場・食品関係の営業所などの監視などを行うことですが、新型コロナウイルスの感染者が日本でも増えたことで、その対応にもあたっています。





社会 解答用紙

受験番号	氏名

※のらんには何も書かないこと。

<b>1</b>	問1	問2 (1)		※																				
	問2 (2)																							
	問3	問4 (1)	(2)	i	ii																			
	問5	問6 (1)																						
	問6 (2)	i																						
		ii																						
<b>2</b>	問1	ha	問2	問3 (1)	※																			
	問3 (2)																							
<b>3</b>	問1	問2 (1)		※																				
	問2 (2)																							
	問3	問4																						
	問5 (1)	(2)		問6																				
<b>4</b>	問1	問2		問3	※																			
	問4	問5		問6																				
	問7	問8		問9																				
	問10	問11		問12																				
	問13																							
	問14	A																						
		B																						
	問15	問16		問17																				
	問18	問19		問20																				
<b>5</b>	問1	問2 A		B	問3	※																		
	問4																							

※
---



# 社会訂正

23ページ 4 【Ⅲ】本文3～4行

誤

かたぎぬ こそで  
肩衣や小袖にくくりばまかを着たり、・・・



正

かたぎぬ こそで  
肩衣や小袖にくくりばかまを着たり、・・・